

110 學年度東港高中國中部音樂類藝術才能班新生甄試
樂理測驗試題

(請一律於答案卷上作答)

一、選擇題：(75%) 每題 3 分

- 1、在總譜的排列順序上，下列哪一個樂器在最下方？(1) 豎笛 (2) 大提琴 (3) 定音鼓
- 2、下列速度術語哪一個表示的速度最快？(1) presto (2) adagio (3) moderato
- 3、請問所謂的三全音是指音程幾度？(1) 增四度 (2) 減四度 (3) 完全四度
- 4、下列哪一首不是莫札特的作品？(1) 驚愕交響曲 (2) 朱彼得交響曲 (3) 倫敦交響曲
- 5、下列作曲家 (a, 海頓 b, 李斯特 c, 巴哈) 的出生年代依照先後順序排列何者正確？(1) abc (2) cba (3) cab
- 6、黃帝時期命其樂官制定十二律，請問此樂官是指哪一位？(1) 皋陶 (2) 李延年 (3) 伶倫
- 7、以下作品與作曲家配對何者錯誤？(1) 歌劇魔笛---莫札特 (2) 馬太受難曲---莫札特 (3) 魔王藝術歌曲---舒伯特
- 8、請問下列哪一位並非浪漫樂派的作曲家？(1) 李斯特 (2) 德布西 (3) 舒曼
- 9、下列哪一樣不屬於移調樂器？(1) 長笛 (2) 法國號 (3) 英國管
- 10、下列哪一首作曲家與作品的配對錯誤？(1) 江文也---杯底不可飼金魚 (2) 蕭泰然---1947 序曲 (3) 馬水龍---梆笛協奏曲
- 11、下列哪一首樂曲為古琴曲？(1) 二泉映月 (2) 高山流水 (3) 海青拿天鵝
- 12、下列哪一人物並非與歌仔戲有關？(1) 廖瓊枝 (2) 黃海岱 (3) 唐美雲
- 13、若中國五聲音階中的「羽」音為升 D，請問此五聲音階的「宮」音為？(1) 升 F (2) F (3) B
- 14、下列哪一項為中國漢代管理音樂的機構名稱？(1) 大司樂 (2) 梨園 (3) 樂府
- 15、下列哪一種樂器屬於「八音」樂器分類中的「革」類？(1) 磬 (2) 鼓 (3) 編鐘
- 16、以下哪一個為速度術語？(1) Largo (2) dolce (3) risoluto

- 17、有關台灣原住民傳統音樂的配對何者錯誤？(1) 邵族---杵歌 (2) 排灣族---老人飲酒歌 (3) 達悟族---甩髮舞
- 18、請問 b 小調的關係調的平行調的屬調是？(1) 降 A 大調 (2) A 大調 (3) a 小調
- 19、下列關於中國音樂的名詞，哪一項出現的時間最晚？(1) 崑曲 (2) 相和歌 (3) 雲門
- 20、請問降 G 大調的中音為何音？(1) 降 B (2) 降 E (3) B
- 21、請問 f 小調的下屬音會跟下列哪一項同音？
(1) g 小調的下中音 (2) G 大調的中音 (3) 降 E 大調的屬音
- 22、請問下列哪一首交響曲並非貝多芬的作品？(1) 英雄 (2) 新世界 (3) 合唱
- 23、請問小三度的轉位音程是？(1) 大三度 (2) 大六度 (3) 小六度
- 24、請問下列對於衛武營國家藝術文化中心的敘述何者錯誤？(1) 其音樂廳有全台灣唯一葡萄園式坐席設計 (2) 位於台北市區 (3) 由荷蘭建築師法蘭馨·侯班 (Francine Houben) 所設計
- 25、請問歌仔戲的發源地是？(1) 宜蘭 (2) 花蓮 (3) 台南。

二、請寫出下列要求的音階 (25%) 每題 5 分

1. 升 c 小調和聲小音階上行，以調號記譜。
2. 升 F 大調音階上行，以調號記譜。
3. g 小調曲調小音階上下行，以調號記譜。
4. 以 D 音為起音，寫五聲音階羽調式，以臨時記號記譜。
5. 以 A 音為起音，寫七聲音階徵調式，以臨時記號記譜。

110 學年度東港高中國中部音樂類藝術才能班新生甄試

樂理測驗

【答案卷】


	總分
初計	
複計	


一、選擇題：(75%) 每題 3 分


	分數
初閱	
複閱	


- 1.() 2.() 3.() 4.() 5.()
 6.() 7.() 8.() 9.() 10.()
 11.() 12.() 13.() 14.() 15.()
 16.() 17.() 18.() 19.() 20.()
 21.() 22.() 23.() 24.() 25.()


三、請寫出下列要求的音階。(25%) 每題 5 分

1. 

2. 

3. 

4. 

5. 

	分數
初閱	
複閱	