

111 學年度東港高中國中部音樂類藝術才能班新生甄試

樂理【測驗卷】

【請一律於答案卷上作答】

一、選擇題：(81%) 每題 3 分

- 1、下列哪一項樂器，不會出現在木管五重奏中？ (1) 豎笛 (2) 法國號 (3) 小號
- 2、下列速度術語哪一個並非是速度加快之意？ (1) piu mosso (2) presto (3) stretto
- 3、請問下列的同音異名哪一項跟其他兩個不同音？ (1) 重降 E (2) 升 B (3) 重降 D
- 4、下列哪一首舒伯特的作品不是藝術歌曲？ (1) 野玫瑰 (2) 鱒魚 (3) 菩提樹
- 5、下列作曲家 (a, 荀白克 b, 舒曼 c, 莫札特) 的出生年代依照先後順序排列何者正確？ (1) abc (2) cba (3) cab
- 6、雲門舞集的『雲門』這個名詞，請問是來自哪個時期的舞樂？ (1) 黃帝時期 (2) 堯帝時期 (3) 虞舜時期
- 7、以下作品與作曲家配對何者錯誤？ (1) 天鵝湖---柴可夫斯基 (2) 郭德堡變奏曲---巴哈 (3) 幻想交響曲---李斯特
- 8、請問下列哪一位是巴洛克時期的作曲家？ (1) 帕海貝爾 (2) 布拉姆斯 (3) 史特拉文斯基
- 9、柴可夫斯基的作品胡桃鉗中的『糖梅仙子之舞』是哪項樂器演奏？ (1) 古鋼琴 (2) 鋼琴 (3) 鋼片琴
- 10、下列哪一個是屬於北管的社團？ (1) 漢唐樂府 (2) 梨春園 (3) 明華園
- 11、台灣傳統民謠中，哪一首是屬於恆春地區的歌曲？ (1) 思想起 (2) 丟丟銅仔 (3) 六月茉莉
- 12、下列哪一人物與歌仔戲有關？ (1) 潘玉嬌 (2) 邱火榮 (3) 廖瓊枝
- 13、若中國五聲音階中的「羽」音為升 D，請問此五聲音階的「宮」音為？ (1) 升 F (2) F (3) B
- 14、關於中國戲曲的描述何者正確？ (1) 京劇誕生於宋朝 (2) 梨園戲與北管有關 (3) 崑曲為魏良輔所改良
- 15、以中國七聲音階而言，若『徵』為 E，則『宮』和『羽』分別會是什麼音？ (1) A-升 F (2) 升 A-升 F (3) A-F

- 16、以下哪一個速度術語代表的速度是最快的？(1) Vivace (2) Grave (3) Adagio
- 17、請問哪項為台灣原住民的傳統樂器？(1) 杵 (2) 箜篌 (3) 柷
- 18、請問A大調的關係調的下屬調的平行調是？(1) 降B大調 (2) B大調 (3) b小調
- 19、下列關於台灣傳統音樂的名詞，哪一項與南管有關？(1) 老山歌 (2) 上四管 (3) 亂彈
- 20、請問F大調的下屬音為何音？(1) 降B (2) C (3) B
- 21、請問g小調的屬音會跟下列哪一項同音？  
(1) f小調的下中音 (2) E大調的導音 (3) C大調的上主音
- 22、請問下列哪一首交響曲是海頓的作品？(1) 牛津 (2) 命運 (3) 未完成
- 23、請問增四度音程轉位後會變成？(1) 增五度 (2) 完全五度 (3) 減五度
- 24、請問F-降B這個音程可能出現在哪一調當中？(1) F大調 (2) G大調 (3) C大調
- 25、請問大九度音程若轉換成單音程會是？(1) 大二度 (2) 小二度 (3) 增二度
- 26、請問哪一首樂曲是阿美族的民歌？(1) 祈禱小米豐收歌 (2) 老人飲酒歌 (3) 美麗的稻穗
- 27、中國哪個朝代將樂隊以演奏形式分類為坐部伎與立部伎？(1) 唐 (2) 元 (3) 漢

二、請寫出下列要求的音階。(19%) 第1題3分，第2-5題4分。

1. 以e為起音，寫一個全音音階。
2. 請寫出降e小調曲調小音階上下行，以調號記譜。
3. 請寫出b小調和聲小音階上行，以調號記譜。
4. 以g為起音，寫出七聲音階變徵調式，以臨時記號作答。
5. 以c為起音，寫出五聲音階羽調式，以臨時記號作答。

111 學年度東港高中國中部音樂類藝術才能班新生甄試

樂理測驗

【答案卷】





	總分
初計	
複計	

一、選擇題：(81%) 每題 3 分

	分數
初閱	
複閱	

- 1.(        ) 2.(        ) 3.(        ) 4.(        ) 5.(        )  
 6.(        ) 7.(        ) 8.(        ) 9.(        ) 10.(        )  
 11.(        ) 12.(        ) 13.(        ) 14.(        ) 15.(        )  
 16.(        ) 17.(        ) 18.(        ) 19.(        ) 20.(        )  
 21.(        ) 22.(        ) 23.(        ) 24.(        ) 25.(        )  
 26.(        ) 27.(        )

二、請寫出下列要求的音階。(19%) 第 1 題 3 分，第 2-5 題 4 分。

1.  2.  3.  4.  5. 